







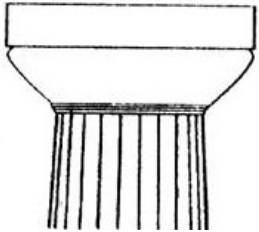
















**ДОП «Изобразительное творчество» 1(4) класс
История изобразительного искусства**

22 мая 2020 года

Контрольная работа «Искусство Древней Греции»

1	<p>Что означает “античность” в переводе с греческого? а) греческий б) древний в) гуманистический г) классический</p>													
2	<p>Какие архитектурные сооружения находятся в Афинском Акрополе? а) Эрехтейон б) Парфенон в) Пантеон г) Храм Зевса</p>													
3	<p>Какие персонажи мифов связаны с Кносским дворцом? а) Орфей и Эвридика б) Персей и Андромеда в) Тесей и Минотавр г) Дедал и Икар</p>													
4	<p>Соотнесите богов и их функции</p> <table border="1" data-bbox="175 1137 1503 1384"> <tr> <td data-bbox="175 1137 790 1205">а) Гестия -</td> <td data-bbox="790 1137 1503 1205">1. Богиня мудрости</td> </tr> <tr> <td data-bbox="175 1205 790 1272">б) Гефест -</td> <td data-bbox="790 1205 1503 1272">2. Покровитель искусства, божество света</td> </tr> <tr> <td data-bbox="175 1272 790 1339">в) Афина -</td> <td data-bbox="790 1272 1503 1339">3. Богиня домашнего очага</td> </tr> <tr> <td data-bbox="175 1339 790 1384">г) Аполлон -</td> <td data-bbox="790 1339 1503 1384">4. Бог огня</td> </tr> </table>			а) Гестия -	1. Богиня мудрости	б) Гефест -	2. Покровитель искусства, божество света	в) Афина -	3. Богиня домашнего очага	г) Аполлон -	4. Бог огня			
а) Гестия -	1. Богиня мудрости													
б) Гефест -	2. Покровитель искусства, божество света													
в) Афина -	3. Богиня домашнего очага													
г) Аполлон -	4. Бог огня													
5	<p>Соотнесите изображения древнегреческих чудес света с их названием</p> <table border="1" data-bbox="175 1440 1503 2033"> <tr> <td data-bbox="175 1440 590 1888"> <p style="text-align: center;">1</p>  </td> <td data-bbox="590 1440 1021 1888"> <p style="text-align: center;">2</p>  </td> <td data-bbox="1021 1440 1503 1888"> <p style="text-align: center;">3</p>  </td> </tr> <tr> <td data-bbox="175 1888 590 2033"> <p style="text-align: center;">4</p> </td> <td data-bbox="590 1888 909 1944"> <p>а) статуя Зевса -</p> </td> <td data-bbox="909 1888 1021 1944"> <p>№</p> </td> <td data-bbox="1021 1888 1503 2033"> <p style="text-align: center;">5</p> </td> </tr> <tr> <td data-bbox="175 1944 590 2033"></td> <td data-bbox="590 1944 909 2033"> <p>б) Александрийский маяк -</p> </td> <td data-bbox="909 1944 1021 2033"> <p>№</p> </td> <td data-bbox="1021 1944 1503 2033"></td> </tr> </table>			<p style="text-align: center;">1</p> 	<p style="text-align: center;">2</p> 	<p style="text-align: center;">3</p> 	<p style="text-align: center;">4</p>	<p>а) статуя Зевса -</p>	<p>№</p>	<p style="text-align: center;">5</p>		<p>б) Александрийский маяк -</p>	<p>№</p>	
<p style="text-align: center;">1</p> 	<p style="text-align: center;">2</p> 	<p style="text-align: center;">3</p> 												
<p style="text-align: center;">4</p>	<p>а) статуя Зевса -</p>	<p>№</p>	<p style="text-align: center;">5</p>											
	<p>б) Александрийский маяк -</p>	<p>№</p>												

		в) Колосс Родосский - №		
		г) Галикарнасский мавзолей - №		
		д) Храм Артемиды - №		
6	К каким архитектурным ордерам принадлежат колонны?			
	<p style="text-align: center;">1</p> 	<p style="text-align: center;">2</p> 	<p style="text-align: center;">3</p> 	а) коринфский - № б) ионический - № в) дорический - №
7	Какие скульптурные произведения созданы Фидием?			
	<p style="text-align: center;">1</p> 	<p style="text-align: center;">2</p> 	<p style="text-align: center;">3</p> 	<p style="text-align: center;">4</p> 
	1. – Лаокоон и его сыновья 2. – Зевс Олимпийский 3. – Афина Парфенос 4. – Геракл, борющийся со львом			
8	Как называются древнегреческие сосуды?			
	<p style="text-align: center;">1</p>	<p style="text-align: center;">2</p>	<p style="text-align: center;">3</p>	<p style="text-align: center;">4</p>

				
<p>а) амфора - № б) кратер - № в) гидрия - № г) пелика - №</p>				
9	<p>Какая скульптура явилась каноном в определении идеальных пропорций человеческой фигуры?</p>			
<p>1</p> 	<p>2</p> 	<p>3</p> 	<p>4</p> 	
Дискобол	Дорифор	Венера Милосская	Венера Таврическая	
<p>а) Геракл, борющийся со львом б) Артемида в) Лаокоон г) Аполлон</p>				
10	<p>Какие древнегреческие мифы повествуют о подвигах Геракла?</p>			
<p>а) Немейский лев б) Спасение Андромеды в) Кони Диомеда г) Конюшни царя Авгия д) Яблоки Гесперид е) Путешествие за золотым руном</p>				

Выполненную работу сфотографировать на телефон и прислать на электронную почту alla-m712ne@yandex.ru (Подкорытова Алла Владимировна) или отправить в группу в WhatsApp вашего класса, или отправить в личном сообщении в VK (ВКонтакте). **Срок до 28.05.2020**